



# MUNICÍPIO DA ESTÂNCIA BALNEÁRIA DE PRAIA GRANDE

Estado de São Paulo  
SEDUC - Secretaria de Educação

SEMANAS 11 e 12

## SALA DE AULA



Disciplina: Matemática

3ª e 4ª série E.J.A

### QUERIDO ALUNO, RESPONDA ÀS QUESTÕES EM SEU CADERNO!

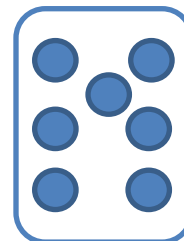
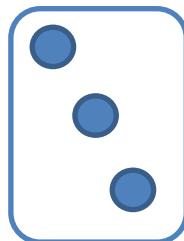
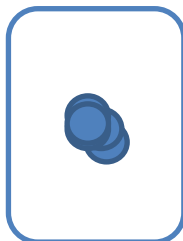


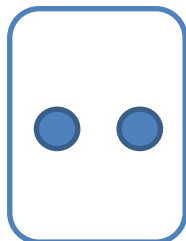
ESTAMOS PASSANDO POR MOMENTOS DIFÍCEIS COM A PANDEMIA DEVIDO AO CORONAVÍRUS, MAS NÃO PODEMOS ESQUECER DO MOSQUITO Aedes Aegypti, QUE TRANSMITE A DENGUE, A ZIKA E A CHIKUNGUNYA. NÃO SE ESQUEÇA DE FAZER A SUA PARTE!



#### NÚMEROS PARES E ÍMPARES

NÚMEROS TERMINADOS EM 0, 2, 4, 6 OU 8 É PAR.  
NÚMEROS TERMINADOS EM 1, 3, 5, 7 OU 9 É ÍMPAR.

1- ESCREVA O NÚMERO DE ELEMENTOS DE CADA GRUPO E IDENTIFIQUE SE O NÚMERO É PAR OU ÍMPAR.



2- OBSERVE OS NÚMEROS E RESPONDA ÀS QUESTÕES ABAIXO:

100

113

127

136

141

157

168

170

A) NÚMEROS MAIORES QUE 165: \_\_\_\_\_

B) NÚMEROS MENORES QUE 140: \_\_\_\_\_

C) NÚMEROS PARES: \_\_\_\_\_

D) NÚMEROS ÍMPARES: \_\_\_\_\_

3- COMPLETE AS SEQUÊNCIAS:

2	4								
---	---	--	--	--	--	--	--	--	--

- CONTANDO DE 2 EM 2

3	6								
---	---	--	--	--	--	--	--	--	--

- CONTANDO DE 3 EM 3

4	8								
---	---	--	--	--	--	--	--	--	--

- CONTANDO DE 4 EM 4

5	10								
---	----	--	--	--	--	--	--	--	--

- CONTANDO DE 5 EM 5

**DOBRO – TRIPLO – QUÁDRUPLO - QUÍNTUPLO**

**DOBRO**



**TRIPLO**



**QUÁDRUPLO**



**QUÍNTUPLO**



**4- COMPLETE A TABELA:**

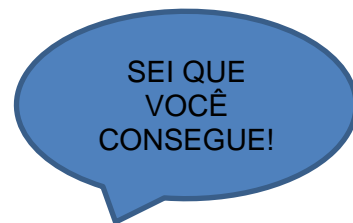
NÚMERO	DOBRO	TRIPLO	QUÁDRUPLO	QUÍNTUPLO
2				
4				
6				
8				
10				

## 5- CALCULE OS VALORES DAS AFIRMAÇÕES:

- A) O DOBRO DE 95 É
- B) O QUÁDRUPLO DE 65 É
- C) O TRIPLO DE 55 É
- D) O QUÍNTUPLO DE 50 É
- E) O DOBRO DE 20 É
- F) O QUÍNTUPLO 24 É
- G) O TRIPLO DE 40
- H) O QUÁDRUPLO DE 41
- I) O QUÍNTUPLO DE 32

## 6- RESOLVA ÀS QUESTÕES DO QUADRO ABAIXO!

NÚMERO INICIAL	22
DUPLIQUE ESSE NÚMERO	
SOME 10	
SUBTRAIA 4	
CALCULE O TRIPLO	
SUBTRAIA 50	
CALCULE O QUÍNTUPLO	
ADICIONE 500	
SUBTRAIA 100	
CALCULE O QUÁDRUPLO	



## 7- SITUAÇÃO PROBLEMA

- A) SE EM 1 DIA A FÊMEA ADULTA DO MOSQUITO AEDES AEGYPTI DEPOSITA OS OVOS NAS PAREDES DE RESERVATÓRIOS COM ÁGUA LIMPA E PARADA, APÓS 7 DIAS, A LARVA CRESCE E VIRA PUPA E 2 DIAS DEPOIS, O MOSQUITO ESTÁ COMPLETAMENTE FORMADO E PRONTO PARA PICAR. QUANTOS DIAS DUROU O INÍCIO DO CICLO DO MOSQUITO?
- B) UMA FÊMEA DO MOSQUITO AEDES AEGYPTI PRODUZ DE 60 A 120 OVOS EM CADA CICLO REPRODUTIVO E PODE TER MAIS 3 CICLOS DURANTE SUA VIDA. SE ELA CONSEGUIR VIVER 3 CICLOS E PRODUZIU 120 OVOS EM CADA, QUANTOS OVOS A FÊMEA PRODUZIU NO TOTAL?

## 8- PRESTE BASTANTE ATENÇÃO NO MODELO E TENDE FAZER AS CONTINHAS!

c	d	u
3	5	7
-1	3	9
<hr/>		

⇒

c	d	u
3	4	17
-1	3	9
<hr/>		

⇒

c	d	u
3	4	17
-1	3	9
<hr/>		
2	1	8

NÃO CONSEGUIMOS RETIRAR 9 UNIDADES DE APENAS 7. NESSE MOMENTO, O 7 PRECISA PEDIR EMPRESTADO 1 DEZENA PARA O SEU VIZINHO À ESQUERDA, ENTÃO AS 5 DEZENAS TORNAM-SE APENAS 4, E 1 DEZENA IRÁ SE JUNTAR ÀS UNIDADES. MAS, COMO FALAMOS, 1 DEZENA = 10 UNIDADES. ENTÃO, SE JÁ TÍNHAMOS 7 UNIDADES, AGORA TEREMOS 17.

- A)  $600 - 230 =$
- B)  $500 - 247 =$
- C)  $703 - 45 =$
- D)  $105 - 79 =$
- E)  $364 - 259 =$
- F)  $762 - 387 =$
- G)  $357 - 289 =$
- H)  $700 - 304 =$
- I)  $101 - 17 =$

### DADOS

OS NÚMEROS DEMONSTRAM QUE PRAIA GRANDE ESTÁ FOCADA TAMBÉM NA LUTA CONTRA A DENGUE. EM 2021, ATÉ OS PRIMEIROS DIAS DE FEVEREIRO, FORAM EFETUADOS 9.216 BLOQUEIOS DE CONTROLE DE CRIADOUROS EM 1.039 IMÓVEIS VISITADOS. OUTRO DESTAQUE NO PERÍODO É QUE 131 PONTOS ESTRATÉGICOS, COMO FERROS VELHOS E OBRAS, FORAM VISTORIADOS.

FONTE: [http://praiagrande.sp.gov.br/pgnoticias/noticias/noticia\\_01.asp?cod=52193](http://praiagrande.sp.gov.br/pgnoticias/noticias/noticia_01.asp?cod=52193)

## 9- ARME AS CONTAS ABAIXO E DESCUBRA QUAIS OPERAÇÕES TEM OS RESULTADOS: $9.216 - 1.039 - 131$ .

- A)  $16.920 - 7.704 =$
- B)  $542 - 468 =$
- C)  $6.070 - 224 =$
- D)  $8.151 - 7.112 =$
- E)  $714 - 583 =$
- F)  $3042 - 810 =$